

# Challenge mathématique 2023 – 2024



## Manche 2 – Niveau 2

### Niveau 2A

#### Problème jour 3

#### Les bonhommes de neige

Anna a 21 boutons colorés pour décorer des bonhommes de neige comme celui-ci. Combien de bonhommes peut-elle décorer avec ses boutons ?



# Challenge mathématique 2023 – 2024


## Manche 2 – Niveau 2

**Niveau 2B**

### Problème jour 3

#### Les bonhommes de neige

Anna a 42 boutons colorés pour décorer des bonhommes de neige comme celui-ci. Combien de bonhommes peut-elle décorer avec ses boutons ?



# Challenge mathématique 2023 – 2024 Manche 2 – Niveau 2

Bonus n°2 : production  
d'énoncé

